

FORMATO PARA LA REALIZACIÓN DE TALLERES ACADÉMICOS CON LOS ESTUDIANTES  
(DESARROLLO DE COMPETENCIAS)



EDUCACIÓN CON CALIDAD

INSTITUCIÓN EDUCATIVA

JUAN MARÍA CÉSPEDES

Código: F-GA-017

Versión: 01


Fecha 2016/02/03

TALLER NÚMERO: 1  
DOCENTE: LILIANA SALDARRIAGA  
GRADO: PRIMERO  
ASIGNATURA: MATEMATICAS  
ESTUDIANTE:  
CALIFICACIÓN:

## Aprendiendo conjuntos

www.Matematica1.com

Marca con un aspa (X)  
los útiles del aula.



Los objetos que has marcado se utilizan  
en el colegio; y cada uno de ellos, es un  
elemento del conjunto de útiles del aula.

1. Ahora, dibuja el conjunto de útiles del aula.

U

**FORMATO PARA LA REALIZACIÓN DE TALLERES ACADÉMICOS CON LOS ESTUDIANTES  
(DESARROLLO DE COMPETENCIAS)**



**EDUCACIÓN CON CALIDAD**



**INSTITUCIÓN EDUCATIVA  
JUAN MARÍA CÉSPEDES**

Código: F-GA-017  
Versión: 01  
Fecha 2016/02/03

**TALLER NÚMERO: 2**  
**DOCENTE: LILIANA SALDARRIAGA**  
**GRADO: PRIMERO**  
**ASIGNATURA: MATEMATICAS**  
**ESTUDIANTE:**  
**CALIFICACIÓN:**

## Pertenenencia de conjuntos

**1.** Observa los conjuntos de frutas y verduras:













Un elemento pertenece a un conjunto cuando cumple con las características del conjunto.

www.Matemática1.com

Se representa así:



**2.** Ahora, completa con  $\in$  o  $\notin$  según convenga:

	_____	F		_____	F
	_____	F		_____	F
	_____	V		_____	V
	_____	V		_____	F
	_____	V		_____	V

FORMATO PARA LA REALIZACIÓN DE TALLERES ACADÉMICOS CON LOS ESTUDIANTES  
(DESARROLLO DE COMPETENCIAS)



EDUCACIÓN CON CALIDAD

INSTITUCIÓN EDUCATIVA

JUAN MARÍA CÉSPEDES

Código: F-GA-017

Versión: 01

Fecha 2016/02/03

TALLER NÚMERO: 3  
DOCENTE: LILIANA SALDARRIAGA  
GRADO: PRIMERO  
ASIGNATURA: MATEMATICAS  
ESTUDIANTE:  
CALIFICACIÓN:

# La decena

Capacidad: Reconoce que 10 unidades son una decena.

1. En cada recuadro agrupa los elementos de 10 en 10; luego, escribe el número de decenas que encontraste:



DECENA	UNIDAD
1	0

10 unidades = 1 decena

Activity box containing 21 heart shapes arranged in 3 rows of 7. To the right is a dashed box for writing the number of decenas, with the word "decenas" written below it.

Activity box containing 33 pencil shapes arranged in 3 rows of 11. To the right is a dashed box for writing the number of decenas, with the word "decenas" written below it.

**FORMATO PARA LA REALIZACIÓN DE TALLERES ACADÉMICOS CON LOS ESTUDIANTES  
(DESARROLLO DE COMPETENCIAS)**



**EDUCACIÓN CON CALIDAD**

**INSTITUCIÓN EDUCATIVA**

**JUAN MARÍA CÉSPEDES**

**Código: F-GA-017**

**Versión: 01**

**Fecha 2016/02/03**

**TALLER NÚMERO: 4**


**DOCENTE: LILIANA SALDARRIAGA**

**GRADO: PRIMERO**

**ASIGNATURA: MATEMATICAS**

**ESTUDIANTE:**

**CALIFICACIÓN:**



$\begin{array}{r} 27 \\ + 31 \\ \hline \end{array}$	$\begin{array}{r} 43 \\ + 44 \\ \hline \end{array}$	$\begin{array}{r} 51 \\ + 37 \\ \hline \end{array}$	$\begin{array}{r} 36 \\ + 43 \\ \hline \end{array}$	$\begin{array}{r} 19 \\ + 70 \\ \hline \end{array}$
---	---	---	---	---

$\begin{array}{r} 65 \\ + 21 \\ \hline \end{array}$	$\begin{array}{r} 86 \\ + 10 \\ \hline \end{array}$	$\begin{array}{r} 77 \\ + 12 \\ \hline \end{array}$	$\begin{array}{r} 45 \\ + 34 \\ \hline \end{array}$	$\begin{array}{r} 42 \\ + 25 \\ \hline \end{array}$
---	---	---	---	---

$\begin{array}{r} 39 \\ + 50 \\ \hline \end{array}$	$\begin{array}{r} 31 \\ + 45 \\ \hline \end{array}$	$\begin{array}{r} 27 \\ + 61 \\ \hline \end{array}$	$\begin{array}{r} 6 \\ + 81 \\ \hline \end{array}$	$\begin{array}{r} 29 \\ + 60 \\ \hline \end{array}$
---	---	---	--	---

$\begin{array}{r} 24 \\ + 54 \\ \hline \end{array}$	$\begin{array}{r} 27 \\ + 41 \\ \hline \end{array}$	$\begin{array}{r} 37 \\ + 50 \\ \hline \end{array}$	$\begin{array}{r} 56 \\ + 22 \\ \hline \end{array}$	$\begin{array}{r} 61 \\ + 27 \\ \hline \end{array}$
---	---	---	---	---

$\begin{array}{r} 7 \\ + 11 \\ \hline \end{array}$	$\begin{array}{r} 18 \\ + 70 \\ \hline \end{array}$	$\begin{array}{r} 32 \\ + 56 \\ \hline \end{array}$	$\begin{array}{r} 45 \\ + 43 \\ \hline \end{array}$	$\begin{array}{r} 30 \\ + 40 \\ \hline \end{array}$
--	---	---	---	---

**FORMATO PARA LA REALIZACIÓN DE TALLERES ACADÉMICOS CON LOS ESTUDIANTES  
(DESARROLLO DE COMPETENCIAS)**




**EDUCACIÓN CON CALIDAD**

**INSTITUCIÓN EDUCATIVA  
JUAN MARÍA CÉSPEDES**

**Código: F-GA-017  
Versión: 01  
Fecha 2016/02/03**

**TALLER NÚMERO: 5**  
**DOCENTE: LILIANA SALDARRIAGA**  
**GRADO: PRIMERO**  
**ASIGNATURA: MATEMATICAS**  
**ESTUDIANTE:**  
**CALIFICACIÓN:**



$$\begin{array}{r} 50 \\ - 32 \\ \hline \end{array}$$

$$\begin{array}{r} 38 \\ - 35 \\ \hline \end{array}$$

$$\begin{array}{r} 11 \\ - 5 \\ \hline \end{array}$$

$$\begin{array}{r} 24 \\ - 10 \\ \hline \end{array}$$

$$\begin{array}{r} 50 \\ - 45 \\ \hline \end{array}$$

$$\begin{array}{r} 43 \\ - 13 \\ \hline \end{array}$$

$$\begin{array}{r} 41 \\ - 22 \\ \hline \end{array}$$

$$\begin{array}{r} 42 \\ - 30 \\ \hline \end{array}$$

$$\begin{array}{r} 37 \\ - 19 \\ \hline \end{array}$$

$$\begin{array}{r} 69 \\ - 29 \\ \hline \end{array}$$

$$\begin{array}{r} 36 \\ - 18 \\ \hline \end{array}$$

$$\begin{array}{r} 72 \\ - 53 \\ \hline \end{array}$$

$$\begin{array}{r} 47 \\ - 44 \\ \hline \end{array}$$

$$\begin{array}{r} 25 \\ - 7 \\ \hline \end{array}$$

$$\begin{array}{r} 70 \\ - 16 \\ \hline \end{array}$$

$$\begin{array}{r} 25 \\ - 6 \\ \hline \end{array}$$

$$\begin{array}{r} 51 \\ - 14 \\ \hline \end{array}$$

$$\begin{array}{r} 86 \\ - 50 \\ \hline \end{array}$$

$$\begin{array}{r} 23 \\ - 9 \\ \hline \end{array}$$

$$\begin{array}{r} 94 \\ - 94 \\ \hline \end{array}$$

$$\begin{array}{r} 67 \\ - 25 \\ \hline \end{array}$$

$$\begin{array}{r} 88 \\ - 19 \\ \hline \end{array}$$

$$\begin{array}{r} 91 \\ - 37 \\ \hline \end{array}$$

$$\begin{array}{r} 10 \\ - 2 \\ \hline \end{array}$$

$$\begin{array}{r} 39 \\ - 30 \\ \hline \end{array}$$